



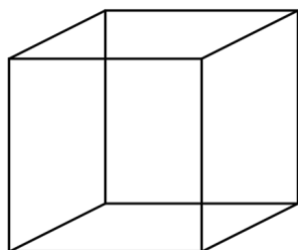
GUÍA DE ÁREA Y VOLUMEN DE CUERPOS GEOMÉTRICOS TALLER DE MATEMÁTICA NIVEL 7° BÁSICO

Nombre: _____ Curso: A-B-C-D-E fecha: _____

Objetivo: Calcular área y volumen de un cubo y de un paralelepípedo.

1- Calcular área de un cubo y paralelepípedo.

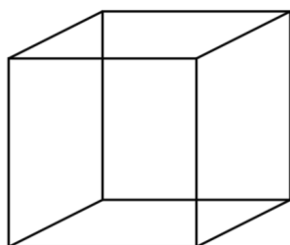
a)



4cm

Desarrollo:

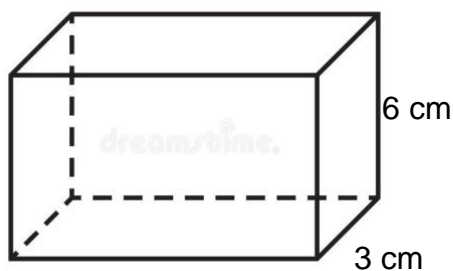
b)



8 cm

Desarrollo:

c)

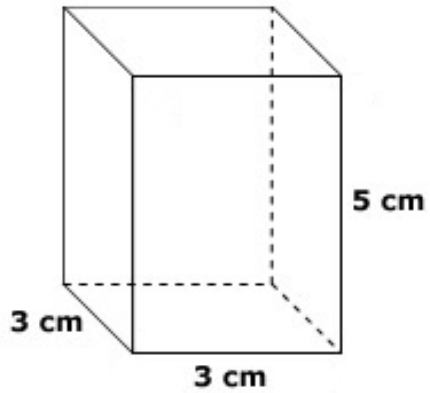


8 cm

Desarrollo:



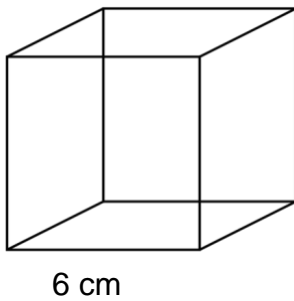
d)



Desarrollo:

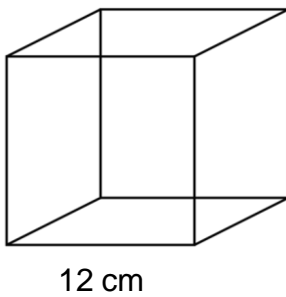
2- Calcular el volumen de cada cubo y paralelepípedo.

a)



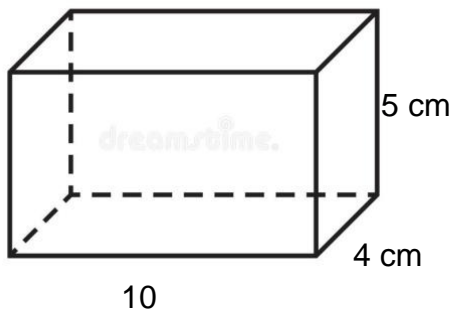
Desarrollo:

b)



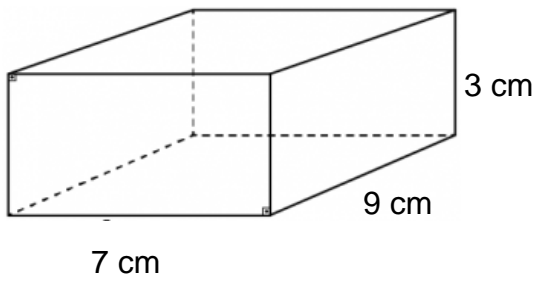
Desarrollo:

c)



Desarrollo:

d)



Desarrollo:

"Lo único imposible es aquello que no intentas"